

على المترشح أن يختار أحد الموضوعين التاليين
الموضوع الأول : (20 نقطة)

التاريخ :

الجزء الأول: (06 نقاط)

" حقا لقد تراجع الاستعمار القديم في عدة جهات و جبهات لكنه في نفس الوقت يمد نفوذه تحت صور أخرى في العالم، ويعمل على تأمين سيطرته على ثروات الشعوب النامية و مواردها.
إن المهام الملقاة على دول عدم الانحياز تتمثل حسب رأينا في ضمان استقلالها الوطني و تحقيق
تميتها لاستكمال هذا الاستقلال و تعزيزه و مناصرة حركات التحرر، ومصارعة الصهيونية و التمييز
العنصري...و جميع مظاهر الاستغلال و الاستعمار الجديد و الامبريالية..."

مقتطفات من خطاب الرئيس هواري بومدين بمناسبة افتتاح المؤتمر الرابع لحركة
عدم الانحياز المنعقد بالجزائر ما بين 9 سبتمبر 1973.

1- حدد مفهوم المصطلحات التي تحتها خط.

2- عرف بالشخصيات التالية:

- ميخائيل غورباتشوف - مانديس فرانس - رونالد ريغن - محمد بوضياف.
3- أكمل جدول الأحداث:

التاريخ	الحدث
	تقسيم كوريا
23 مارس 1954	
	مشروع مارشال
06 أكتوبر 1947	

4- على خريطة الجزائر المرفقة وقع الولايات التاريخية المنبثقة عن مؤتمر الصومام :

الجزء الثاني: (04 نقاط)

أعطى مؤتمر الصومام 20 أوت 1956 محتوى للثورة ووضعها في مسارها الحقيقي وقادها نحو النصر
المطلوب : انطلاقا من الفقرة واعتمادا على ما درست ، أكتب مقالا تاريخيا تبين فيه :

- 1- الهيئات المنبثقة عن المؤتمر .
- 2- استراتيجية الثورة في مواجهة الاستعمار في المجال الخارجي بعد المؤتمر .

الجغرافيا:

الجزء الأول: (06 نقاط)

1- حدد مفهوم المصطلحات التالية:

*- القروض * - الاستقطاب * - الموارد المتجددة * - الأسواق العالمية.

2- إليك جدولاً لتطور إنتاج الصلب بالو.م.أ و اليابان من 1950 إلى 2006:

الوحدة: مليون طن.

البلد	1950	1974	1982	1990	1998	1999	2000	2006
الو.م.أ	100	132	67	88.6	98.6	97.2	101.5	98.6
اليابان	94	100	98	110	93.3	94	106.4	116.2

المصدر: الصورة الاقتصادية للعالم 2007.

المطلوب: مثل إنتاج البلدين بمنحنين بيانيين في نفس المعلم بمقياس:

1 سم ← 10 مليون طن.

1 سم ← 5 سنوات.

3- على خريطة أوروبا المرفقة، حدد الأقاليم الصناعية التالية: ألبو - الروهر - باريس - لندن.

4- إليك جدولاً لنسبة النمو الاقتصادي في بعض دول العالمين المتقدم والمتخلف سنة 2002:

البلد	نسبة النمو %	البلد	نسبة النمو %
الو.م.أ	4.4	الجزائر	5.3
اليابان	2.6	الهند	7.3
ألمانيا	1.7	البرازيل	5.2

المصدر: حالة العالم 2006

المطلوب: حلل معطيات الجدول.

الجزء الثاني: 04 نقاط

يملك العالم المتخلف ثروات متنوعة وطاقات بشرية هائلة، إلا أنه يعاني التخلف في شتى المجالات .

المطلوب: انطلاقاً من الفقرة واعتماداً على ما درست، أكتب موضوعاً جغرافياً تبرز فيه :

1 مظاهر التخلف باعتماد مؤشرات اقتصادية

2 حلولاً للخروج من دائرة التخلف .

الموضوع الثاني : (20 نقطة)

التاريخ:

الجزء الأول: (06 نقاط)

1- حدد مفهوم المصطلحات التالية :

- الستار الحديدي - الامبريالية - التحرر السياسي - النظام الدولي الجديد.

2- عرف بالشخصيات التالية:

- جورج مارشال - نيكيتا خروتشوف - جوزيف بروز تيتو - هواري بومدين.

3- أكمل جدول الأحداث:

التاريخ	الحدث
	قيام هيئة الأمم المتحدة
1955/08/20	
	مبدأ ترومان
25 جانفي 1949	

4- على خريطة العالم المرفقة وقع أربع أزمات للحرب الباردة على أن تكون واحدة في كل قارة

الجزء الثاني: (04 نقاط)

يرى البعض أن لجوء فرنسا للتفاوض مع قادة الثورة الجزائرية كان خيارا استراتيجيا، في حين يرى البعض الآخر أنه كان ضرورة فرضتها الضربات العنيفة التي تلقتها على يد الثورة الجزائرية.

المطلوب: انطلاقا من الفقرة واعتمادا على ما درست، أكتب مقالا تاريخيا تبرز فيه :

- 1 - مبادئ جبهة التحرير الوطني في التفاوض .
- 2- أهداف فرنسا من التفاوض .

الجغرافيا:

الجزء الأول: (06 نقاط)

1- - حدد مفهوم المصطلحات التالية :

- التنمية البشرية - التهيئة الإقليمية - عالم الشمال - الاستقطاب.

2- استخلص من الجدول التالي معايير تصنيف الدولتين وفق مؤشر التنمية البشرية:

البلد	المساحة	عدد السكان	معدل الحياة	نسبة الأمية	الدخل الوطني الخام	الدخل الفردي الخام
الو.م.أ.	9.3 م. كلم ²	298.5 م.ن	78 سنة	0.5 %	11712 مليار دولار	31872 دولار
الجزائر	2.3 م.كلم ²	33 م.ن	73 سنة	30 %	85 مليار دولار	2620 دولار

المصدر: الصورة الاقتصادية العالمية 2004.

3- على خريطة شرق وجنوب شرق آسيا وقع دولتين (02) من التينينات و دولتين (02) من النمر الأسيوية .

الجزء الثاني: 04 نقاط

تتميز الولايات المتحدة الأمريكية بوزنها الاقتصادي والديمقراطي والدور الذي تلعبه في الفضاء العالمي .

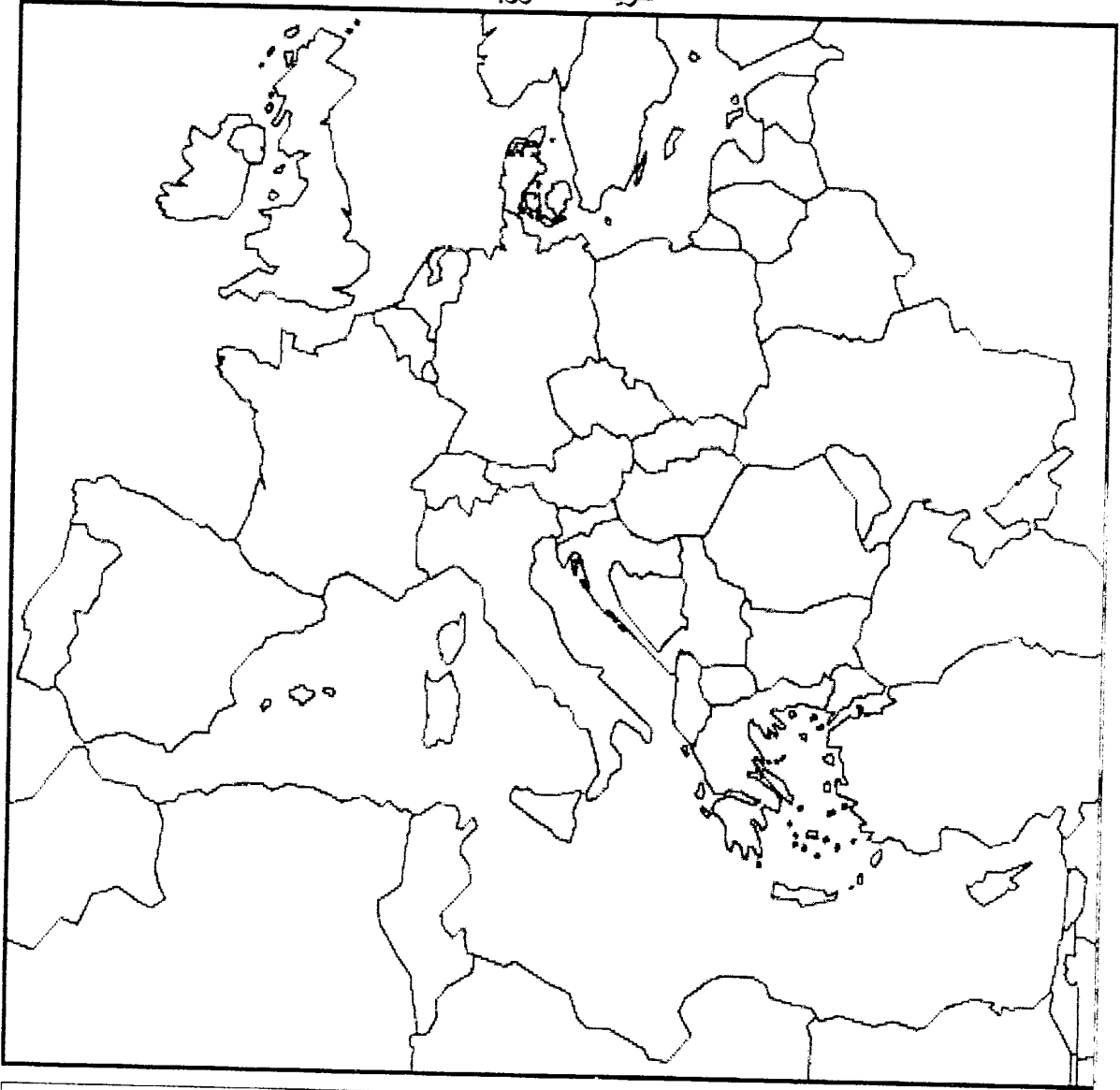
المطلوب: انطلاقا من الفقرة واعتمادا على ما درست، أكتب موضوعا جغرافيا تبين فيه :

- 1- مظاهر الهيمنة الاقتصادية الأمريكية على العالم .
- 2- أثر الهيمنة الأمريكية على الاقتصاد العالمي .

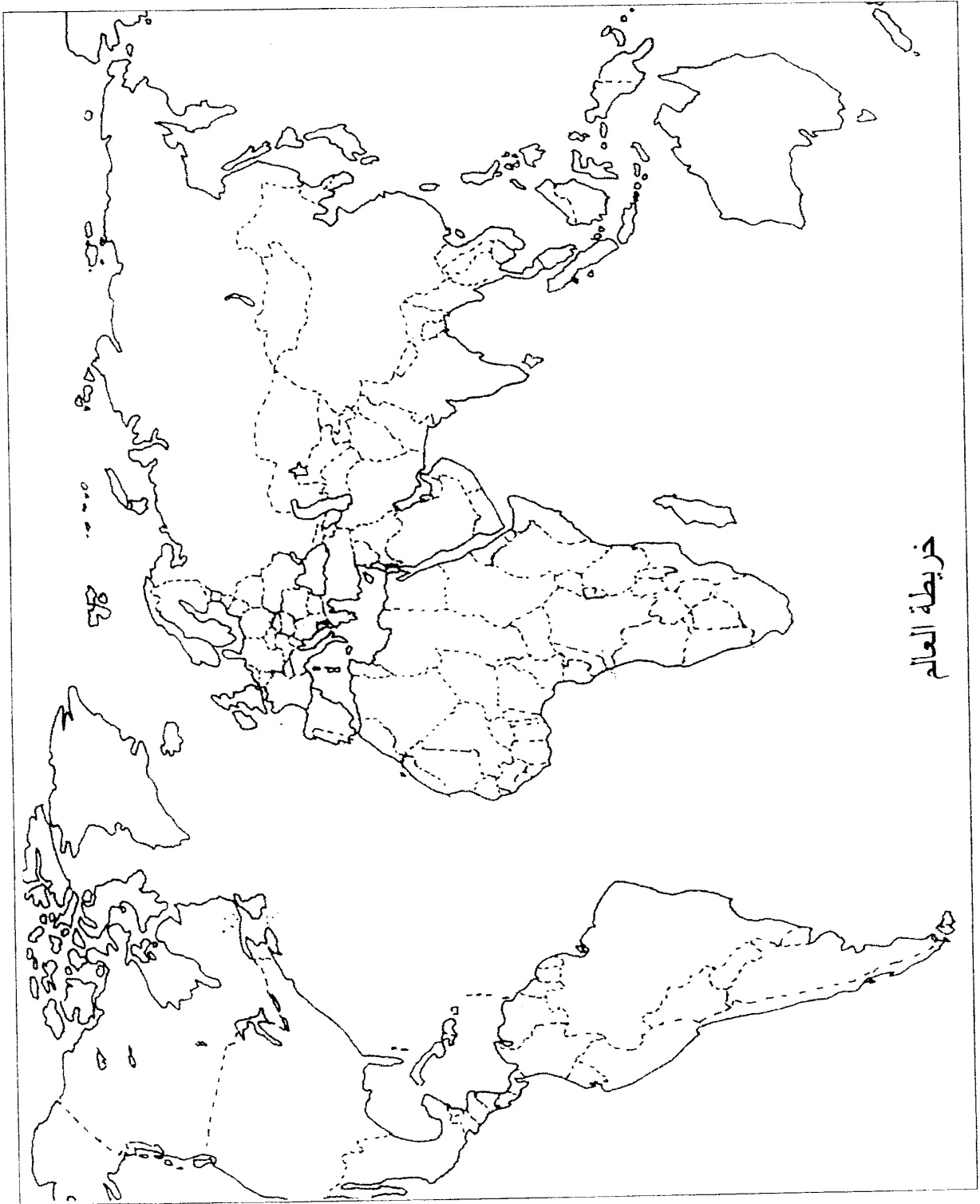


ينجز العمل المطلوب على الخريطة المرفقة وتعاد مع أوراق الإجابة

خريطة أوروبا



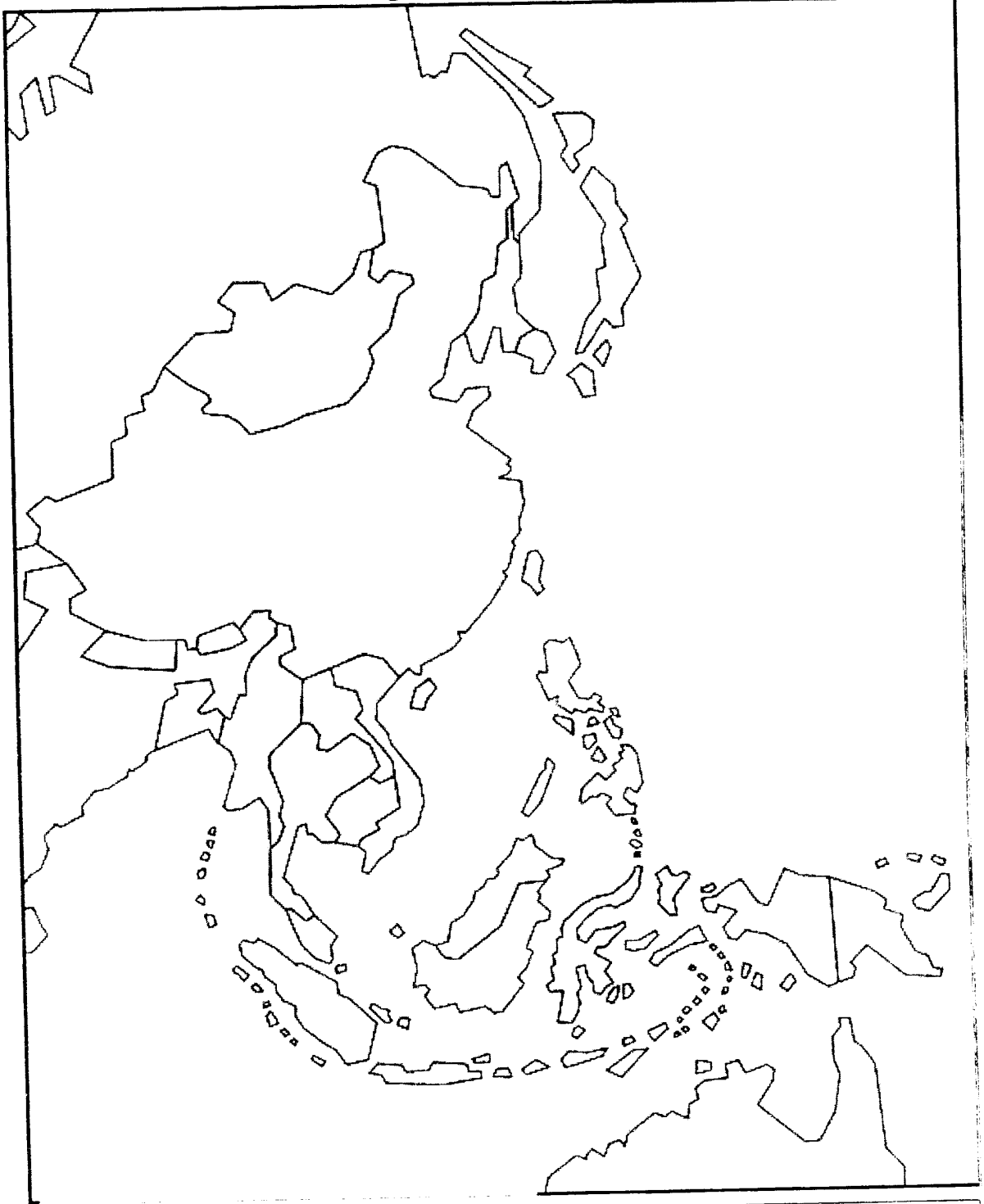
ينجز العمل المطلوب على الخريطة المرفقة وتعاد مع أوراق الإجابة



خريطة العالم

ينجز العمل المطلوب على الخريطة المرفقة وتعاد مع أوراق الإجابة

خريطة شرق وجنوب شرق آسيا



ينجز العمل المطلوب على الخريطة المرفقة وتعاد مع أوراق الإجابة