

امتحان بكالوريا التعليم الثانوي ﴿ دورة جوان 1996 ﴾

الشعب : أداب وعلوم إنسانية ، أداب وعلوم إسلامية ، أداب ولغات أجنبية . المدة : 3 ساعات

اختبار في مادة التاريخ و الجغرافيا

أجب على سؤال في التاريخ وسؤال في الجغرافية :
التاريخ

السؤال الأول : في إطار الصراع العربي الإسرائيلي أصدر مجلس الأمن الدولي عدة قرارات بشأن القضية أهمها : قرار رقم 242 يوم 22 نوفمبر 1967 وقرار رقم 338 يوم 21 أكتوبر 1973 .
المطلوب :

1 - ماهي دوافع صدور القرارين ؟ وما هو مضمونهما ؟

2 - ماهو موقف الطرف العربي من القرارين ؟

3 - ما أثر القرارين على القضية الفلسطينية ؟

السؤال الثاني : شهد العالم ، بعد الحرب العالمية الثانية ، انتشار موجة تحرر عارمة في أوساط البلدان المستعمرة .

المطلوب : 1 - اشرح العوامل التي ساعدت على إنتشار الحركات التحررية .

2 - ما هي أهم خصائص حركة التحرر ؟

3 - عيّن على خريطة العالم المرفقة - شكل 1 - أسماء الحركات التحريرية المحددة بالرمز (*) واذكر فتراتنا التاريخية (التواريخ) .

السؤال الثالث : جاء في مذكرة الجزائريين إلى الحلفاء في ديسمبر 1942 مايلي :

« ... فإذا كانت هذه الحرب - كما قال رئيس الولايات المتحدة الأمريكية - حرب تحرير للشعوب ، والأفراد بدون تمييز لا بالعنصر ولا بالدين ، فإن المسلمين الجزائريين ينضمون بكل قواهم وبكل تضحياتهم إلى هذا الصراع التحريري وهم بذلك يضمّنون التحرير السياسي لأنفسهم ، كما يضمّنون تحرير فرنسا في نفس الوقت ... » .

﴿ الدكتور أبو القاسم سعد الله ، الحركة الوطنية الجزائرية ، ج 3 ﴾

المطلوب : حلّل النص مبيّناً مايلي :

1 - موقف الجزائريين من الحرب العالمية الثانية وأهدافهم .

2 - ردود الفعل الفرنسية أثناء الحرب ونهايتها .

الجغرافية

السؤال الأول :

جاء في تقرير 'مؤسسة داج هاماروشلد' الأمريكية مايلي :

« إنَّ مما ينبغي إدراكه بطبيعة الحال هو أنَّ 3 ملايين من أطنان السماد تذهب لإنبات الأعشاب بالمقابر والحدائق وميادين لعب القولف في بلدان النول الكبرى في العالم. ومن العجيب أنَّ المحروقات التي تستعمل لاستخراج مثل هذا السماد يأتي أغلبها من بلدان العالم الثالث التي لا تتوفر على الصناعة التحويلية الضرورية لذلك .. »

المطلوب : حلل النص مبيناً مايلي :

- 1 - مساوئ النظام الإقتصادي العالمي الحالي وانعكاساته على التنمية في العالم الثالث.
- 2 - ربود فعل العالم الثالث تجاه ذلك.
- 3 - عيّن على خريطة العالم المرفقة - شكل 2 - موقع العالمين المتقدم والمتخلف.

المصدر : الأطلس الاقتصادي العالمي 1995

السؤال الثاني : تعتبر المجموعة الإقتصادية الأوربية مهداً لظهور الثورة الصناعية مما أكسبها خبرة وتجربة

كبيرتين وساعدها على نبوء مكانة صناعية عالمية مرموقة.

المطلوب : حلل العبارة مبيناً مايلي :

- 1 - عوامل تطور الصناعة في المجموعة الإقتصادية الأوربية.
- 2 - المشاكل التي تعترضها.
- 3 - وضّح على خريطة المجموعة المرفقة - شكل 3 - أهم الأقاليم الصناعية في المجموعة.

المصدر : الأطلس الاقتصادي العالمي 1995

السؤال الثالث :

يتألف زعماء زعماء - 1 : جدول

لنصفه من له - 2

- إليك جدول يمثل بعض المنتجات الزراعية في جمهورية تركيا :

المنتج	القمح	الشعير	القطن	البطاطا	الشاي
كمية الإنتاج	19.30	06.90	00.60	04.50	0.14
المرتبة العالمية	07	07	07	11	06

المصدر : الأطلس الإقتصادي العالمي 1995

الوحدة : مليون طن.

المطلوب :

- 1 - مثل أرقام كمية الإنتاج في شكل أعمدة بمقياس رسم : 2 سم لكل منتج و 1 سم لكل 2 مليون طن.
- 2 - علّق على الرسم مبيناً مايلي :
 - أ - المقومات الزراعية لجمهورية تركيا.
 - ب - خصائص الزراعة التركية وبنورها في الإقتصاد التركي.

المصدر : الأطلس الاقتصادي العالمي 1995




الصفحة : 3/2



شکل ۱.




شکل ۲.

العالم المتقدم 
 العالم المتخلف 
 المتوسط العالمی 



شکل ۳.

أهم الدول المصنعية 
 فیدرالات المجرعة.